

60166

教科書文庫

6-
410-
34-1950
01304 49817




Kodak Gray Scale

A 1 2 3 4 5 6 M 8 9 10 11 12 13 14 15 B 17 18 19

© Kodak, 2007 TM: Kodak

Kodak Color Control Patches

© Kodak, 2007 TM: Kodak



inches 1 2 3 4 5 6 7 8
cm 1 2 3 4 5 6 7 8 9 10 11 12 13 14 15 16 17 18 19

0 1 2 3 4 5 6 7 8 9 10 11 12 13 14 15 16 17 18 19 20 21

文庫
50
817

文 部 省 検 定 済 教 科 書
財 団 日 本 新 教 育 研 究 会 編 修
法 人
教 育 學 部
資 料 室

1	1
学 図	小 算 2 0 7

二年生のさんすう

下



広島大学図書

0130449817

学校図書株式会社発行

0 1 2 3 4 5 6 7 8 9 10 11 12 13 14 15

中央図書館

Copyright 1950, by
The Nihon Shinkyōiku Kenkyūkai

All rights reserved

The text of this publication or any part thereof
may not be reproduced in any manner whatsoever
without permission in writing from the authors.

この教科書を用いられる先生方へ

1. この教科書の編修方針については、別冊「教師と父母のための指導書」を参照されたい。したがって、ここには、直接指導上の参考事項のみを掲げることにする。
2. 教材配当は大体第一学期上巻「1. おさらひ」から「3. 100までのやさしいよせざんとひきざん」までの3課、第二学期上巻「4. 20までのくりあがり(さがり)のあるよせざんとひきざん」から下巻「6. 100までのむずかしいよせざん」までの3課、第三学期下巻「7. 100までのむずかしいひきざん」と「8. ぜんたいのたしかめ」の2課
3. 文字、文章は、つとめて平易にし、絵や図を豊富にしたので、指導にあたっては、先ず児童に読ませて、学習の目標を、しっかりつかませるように願いたい。
4. しかし、紙面の制限から、児童にとって、記述の不十分な所もあるから、児童の積極的な質問が生ずるように導かれたい。
5. 観察・調査・測定・実験・製作などは、必ず実践するように導いていただきたい。それを怠っては、数・量・形についての基礎観念が築かれず、また数学的な生活の指導にもなりえないことになる。
6. 各単元の終りに、「まとめ」の項を設けた。ここでは、その単元で学習した事項を、整理総括させて、学習内容の理解を的確にするとともに、学習方法を反省させて、よりよい学習態度の建設に努めていただきたい。
7. テストは、できるだけ多く掲げたつもりである。テストの答を巻末につけておいたから、児童の学習反省・自己診断の資料として、活用するように導かれたい。
8. 「これまでのおけいこ」この項を設けて、既習材料の反覆練習ができるようにした。しかし、この材料は数が少ないから十分補充していただきたい。

寄 贈

教科書文庫

6

410

34-1950

0130449817

昭和25年 月 日 文部省検定済小学校算数科用


二年生のさんすう

広島大学図書

0130449817



下



広島大学図書

0130449817



図書株式会社 横島大学
教育学部図書




も く ろ く

5 450までの

かぞえかた かきかた


- 9 はばとび..... 5 - 12
- 10 おちばあつめ..... 13 - 21
- これまでの おけいこ..... 22 - 24
- 6 100までの
- むずかしい よせざん
- 11 あきの のやま..... 25 - 36
- 12 あきの おにわ..... 37 - 49
- これまでの おけいこ..... 50 - 52



7 100までの


むずかしい ひきざん

- 13 お正月..... 53 - 65
- 14 かるたとり..... 66 - 78
- これまでの おけいこ..... 79 - 81
- 8 ぜんたいの たしかめ
- 15 小人の くに..... 82 - 92
- 16 おみせやごっこ..... 93 - 99
- これまでの おけいこ..... 100 - 101
- テストのこたえ..... 102 - 103
- さ く い ん..... 104





9 はばとび



まさおくんたちは たちはばとびを
しました。おたがいに まきじゃくで
はかりあいました。

ひろしくんは 97 cm とびました。

「98, 99, 100 だからぼくはもう
3 cm で 100 cmに なるね。」と
いいました。



せんせいは それをお
ききになって「100 cmの
ことを 1メートルと いい、1 mと
も かきます。」とおしえて くださ
いました。

$$1 m = 100 cm$$

(1) まさおさんは 92 cm とびま
した。もう なんセンチメートル と
んだら 1 mに なりますか。

(2) たかしさんは、1 mと 9 cm と
びました。これは なんセンチメー
トルと いったら よいでしょう。

(3) 1 mと 1 cmは 百一センチメ
ートルですね。

百一を 101, 百二を 102
百九を 109, 百十を 110
百十五を 115, 百二十を 120
と かきます。

百七十九は どう かきますか。

百九十は どう かきますか。

(4) 108 cmは なんメートルとなん
センチですか。150 cmは なんメー
トルとなんセンチですか。

(5) つぎの かずを よみましょう。

の 中は いくつですか。


171, 172, 173, 174, 175, 176, 177, 178, 180

182, 183, 184, 185, 186, 187, 188, 189,

192, 193, 194, 195, 196, 197, 198, 200

(6) 200 cmは なんメートルですか。

(7) まさおさんたちは 50m きょうそをするので、うんどうばで 50m を はかる ことになりました。




まさおさんは まきじゃくで 20m はかりました。あと なんメートル はかれば よいでしょう。

(8) わたくしたちの きょうしつのはたては およそ なんメートル ありますか。よこは およそ なんメートル ありますか。まきじゃくで はかって みましよう。

(9) わたくしたちの がっこうの

いちばん
ながい ろ
うかは な
んメートル
でしょう。
まどめ



つぎの ことが よく できるよ
うに なりましたか。


(1) $1m = 100cm$

(2) じめんや たてのものなどの
ながさが なんメートル あるか
はかること。

(3) 100から 200までの かぞ
えかたと かきかた。

おけいこ

(1) まさおさんと かず子さんは、はしらにのしをつけて、せいのたかさをはかりました。



まさおさんは $1m 14cm$ 、かず子さんは $1m 9cm$ でした。どちらがなんセンチ たかいですか。

$1m$ までは おなじですから、その さきをくらべれば よいのです。

(2) $1m 12cm$ は なんセンチですか。
 $1m 5cm$ は なんセンチですか。

それは、どう かきますか。

(3) の 中は いくつですか。
 $70-80--100--120-130$
 $140--160--180--200$

(4) なわとびで まさおくんは 120 かい、かず子さんは 150 かい とびました。どちらが なんかい おおいでしょう。



100 かいまでは おなじですから、 20 かいと 50 かいとを くらべれば よいのです。

(5) $2+3$ $4+4$ $9+5$ $8+6$
 $2+4+3$ $30+40$ $20+50$ $30+60$

テスト (9)

(1) がっこうの もんから、わたくしたちの きょうしつまで、なんメートル あるか、はかってみましょう。

(2) すうじに なおしなさい。

百 二百 百六十 百十九 百八

(3) つぎの かずを よみましょう。

107 130 156 101 110

(4) の 中は いくつですか。

- 99 - - 101 - - 103

200 - - 198 - - 196 - 195

(5) つぎの けいさんを なさい。

2	90	7	83	16
<u>+7</u>	<u>-60</u>	<u>+8</u>	<u>-20</u>	<u>-8</u>

10 おちばあつめ



まさおさんと ふみ子さんは おちばあつめを しました。まさおさんは いちようの はを あつめ、ふみ子さんは もみじの はを あつめました。

ふたりは 10まいずつの たばに して つぎのように ならべました。



(1) いちょうのはは上の2だんになんまいありますか。

3だんめは8まいです。

みんなでなんまいですか。

(2) もみじのはは上の2だんになんまいありますか。

3だんめには10まいたばがー

つと3まいあります。

みんなでなんまいありますか。

(3) まさおさんとふみ子さんとどちらがたくさんあつめたでしょう。

(4) 二百八は208, 二百十は210, 二百十三は213, 三百九十九は399, 四百は400, 四百五十は450とかきます。


つぎのかずをすうじてかきましょう。

百七 三百五十 四百六 二百

二百九十九 三百 三百五

(5) つぎのかずをよみましょう。

407 258 360 209 380



(6) 上に ● がいくつありますか。これに もう ひとつ いたら いくつに なりますか。

(7) 300 の つぎは いくつですか。

(8) つぎの かずを よみましょう。

の 中は いくつですか。

① 291, 292, 293, 294, 295, 296, 297, 298, 300

302, 303, 304, 305, 306, 307, 308, 309,

② 391, 392, 393, 394, 395, 396, 397, 398, 400

402, 403, 404, 405, 406, 407, 408, 410

③ 432, 433, 434, 435, 436, 437, 438,

441, 442, 443, 444, 445, 446, 447, 448, 450

(9) 311 から 288 まで はんたいに かぞえて、それを かきなさい。

(10) 345 の 5 を 一のく

らしいの かず、4 を 十のく

らしいの かず、3 を 百のく

らしいの かずと いきます。

百	十	一
の	の	の
く	く	く
ら	ら	ら
い	い	い
3	4	5
2	0	8

208 で 一のくらしいは いくつですか。十のくらしいは いくつですか。百のくらしいは いくつですか。

まとめ

つぎのことがよくできる
ようになりましたか。

(1) 200から450までかぞ
えることとかくこと。

(2) 379や408で一のくら
い・十のくらい・百のくらいは
それぞれいくつか。

おけいこ(10)

(1) ひろしさんと
かず子さんはどん
ぐりひろいにいき
ました。



ひろしさんは305、かず子さんは
296 ひろいきました。

どちらがおおくひろいきましたか。

(2) 305から296まではんたい
にかぞえましょう。

またそれをかいてみましょう。

(3) 300と7でいくつでしょう。

400と25でいくつでしょう。

300と60と8でいくつですか

(4) の中はいくつでしょう。

397--398---401-

403--401---398

(5) つぎのけいさんをなさい。

$$\begin{array}{r}
 30 \quad 90 \quad 44 \quad 76 \quad 3 \quad 88 \\
 + 60 \quad - 70 \quad + 40 \quad - 30 \quad + 45 \quad - 6 \\
 \hline
 \end{array}$$

(6) つぎの せんは なんセンチメートル ありますか。ものさして は かって みましょう。

- ① _____
- ② _____
- ③ _____

(7) つぎの かずを よみましょう。

417 208 400 360 309

(8) つぎの かずを すうじで かきなさい。

百六 三百七十 二百六十八

三百三 四百十 百九十五

(9) みぎの かずの 一のく : ①145
らい、十のく、百のく : ②206
は それぞれ いくつか。 : ③370

テスト(10)

(1) ふみ子さんは お手だまを 198 つづけました。かず 子さんは 201でした。どちらが おお かったでしょう。



(2) 百八十八から 二百十二まで じゆんに すうじで かきましょう。

(3) かんじに かきなおしなさい。

160 203 380 449 408

(4) つぎの かずを すうじに かきなおきましょう。

四百 百五 三百十 四百十七

これまでの おけいこ

(1) かず子さんがおにいさんとつくったいねがみのりしました。



一ばん大きなほのもみのかずをしらべるために 10つぶずつのかたまりにしてみました。かたまりが16できてまだ7つぶありました。10, 20, 30...と かぞえました。みんなでいくつぶあったでしょう。

(2) 300に 80をよせるといくつになりますか。 $300 + 80$

$$100 + 20 \quad 200 + 100 \quad 90 + 300$$

$$400 + 8 \quad 200 + 200 \quad 300 + 78$$

$$300 + 60 + 5 \quad 8 + 50 + 200$$

(3) 435から 400とるといくつになりますか。 $435 - 400$

$$400 - 200 \quad 380 - 80 \quad 290 - 200$$

$$450 - 200 \quad 450 - 50 \quad 275 - 75$$

$$259 - 50 - 9 \quad 427 - 400 - 20$$

(4) つぎのけいさんをなさい。

$$\begin{array}{r} 8 \\ + 5 \\ \hline \end{array} \quad \begin{array}{r} 6 \\ + 9 \\ \hline \end{array} \quad \begin{array}{r} 40 \\ + 30 \\ \hline \end{array} \quad \begin{array}{r} 30 \\ + 50 \\ \hline \end{array} \quad \begin{array}{r} 73 \\ + 6 \\ \hline \end{array} \quad \begin{array}{r} 68 \\ + 20 \\ \hline \end{array}$$

$$\begin{array}{r} 15 \\ - 7 \\ \hline \end{array} \quad \begin{array}{r} 16 \\ - 8 \\ \hline \end{array} \quad \begin{array}{r} 90 \\ - 70 \\ \hline \end{array} \quad \begin{array}{r} 80 \\ - 40 \\ \hline \end{array} \quad \begin{array}{r} 57 \\ - 4 \\ \hline \end{array} \quad \begin{array}{r} 83 \\ - 50 \\ \hline \end{array}$$

しあげテスト (5)

(1) じぶんの せいの たかさは
1メートルと なんセンチですか。そ
れは 百なんセンチメートルですか。

(2) ぶどうが 大きい
ぶさに 37つぶ、小さい
ぶさに 20つぶ あります。




二つの ぶさの ちがいは いくつぶ
ですか。あわせて いくつぶですか。

(3) 415 から 395 まで はんたい
に かきなさい。

(4) つぎの けいさんを なさい。

$\begin{array}{r} 7 \\ +6 \\ \hline \end{array}$	$\begin{array}{r} 69 \\ +30 \\ \hline \end{array}$	$\begin{array}{r} 16 \\ -7 \\ \hline \end{array}$	$\begin{array}{r} 94 \\ -50 \\ \hline \end{array}$	$\begin{array}{r} 49 \\ -5 \\ \hline \end{array}$
--	--	---	--	---

あきの のやま



くりひろい

まさおくんは いも
うとど、にちようびの



ごぜん から



うらの山へ あそびに きました。

(1) おべんとうを たべる まえに、
まさおさんは くりを 31 ひろいま
した。いもうとは 25 ひろいました。

ふたりのを あわせたら いくつに
なつたでしょう。

まさお	10 10 10	。	30に	20
いもうと	+ 10 10	。	を	よせる
みんなで	10 10 10 10 10	8	と	50です。

1に 5を よせると 6です。

みんなで 56に なり
ます。

$$\begin{array}{r} 31 \\ + 25 \\ \hline 56 \end{array}$$

この けいさんは、一の
くらいの 1と 5を よせて 6と
かき、つぎに 十のくらいの 3と
2を よせて 5と かきます。

こたえは 56 です。

(2) おべんとうを たべてから、ま
さおさんは 60、 いもうとは 40
ひろいました。あわせて いくつでし
ょう。

まさお	いもうと	みんなで	60に
60+	10 10 10 10	=100	40を た
			すのですか

ら、60, 70, 80, 90, 100と かぞ

えて、100に なります。

この けいさん
は みぎのように
します。

こたえは 100
です。

0と0で

6と4で

60
+40

000
60
+40

100

(3) つぎは いくつでしょう。

70 + 

50 + 

30 + 

80 + 

(4) つぎの よせぎんを なさい。

47	50	83	30	35
+22	+50	+14	+60	+44
-----	-----	-----	-----	-----

40	25	30	64	20
+60	+63	+70	+32	+80
-----	-----	-----	-----	-----

きのことり

まさおくんたちは、
きのこを みつけま
した。



(1) いもうとは
かきの ひらいて
いない きのこを 17と、ひらいた
きのこを 3 取りました。

みんなて いくつでしょう。



  +  =   =  

17+3の けいさんは、つぎの ように、
17の 7の 下に 3を かき、7に 3を

まとめ

つぎのことがよくできる
ようになりましたか。

$$\begin{array}{r}
 (1) \quad 53 \quad 34 \quad 70 \quad 46 \quad 68 \\
 \quad + 7 \quad + 6 \quad + 30 \quad + 7 \quad + 5 \\
 \hline
 \quad 60 \quad \quad \quad \quad 53
 \end{array}$$

のようなよせざん。

(2) 上のようなよせざんははじめに一のくらいをよせ、つぎに十のくらいをよせる。

おけいこ

(1) かきを
きのう 26
きょう 37 取りました。
あわせていくつですか。



(2) つぎのけいさんをなさい。

$$\begin{array}{r}
 4 \quad 7 \quad 2 \quad 8 \quad 7 \quad 3 \\
 + 7 \quad + 8 \quad + 9 \quad + 6 \quad + 6 \quad + 8 \\
 \hline
 \\
 \\
 16 \quad 12 \quad 14 \quad 15 \quad 13 \quad 16 \\
 - 8 \quad - 6 \quad - 7 \quad - 8 \quad - 7 \quad - 9 \\
 \hline
 \\
 \\
 \end{array}$$

(3) あか

ぐみはお
とこ 15人
おんな 9
人です。



みんなて
なん人ですか。

(4) しろぐみも みんなて 24人で
す。そのうちおとこは 10人です。
おんなはなん人ですか。

(5) あかぐみが 勝ちました。あてられたのは 10 人でした。

いく人 のこりましたか。

(6) つぎの よせざんを なさい。

$$\begin{array}{r} 47 \\ + 6 \\ \hline \end{array} \quad \begin{array}{r} 58 \\ + 7 \\ \hline \end{array} \quad \begin{array}{r} 36 \\ + 8 \\ \hline \end{array} \quad \begin{array}{r} 49 \\ + 9 \\ \hline \end{array} \quad \begin{array}{r} 72 \\ + 8 \\ \hline \end{array} \quad \begin{array}{r} 25 \\ + 6 \\ \hline \end{array}$$

$$\begin{array}{r} 83 \\ + 7 \\ \hline \end{array} \quad \begin{array}{r} 69 \\ + 4 \\ \hline \end{array} \quad \begin{array}{r} 14 \\ + 9 \\ \hline \end{array} \quad \begin{array}{r} 27 \\ + 8 \\ \hline \end{array} \quad \begin{array}{r} 38 \\ + 5 \\ \hline \end{array} \quad \begin{array}{r} 54 \\ + 8 \\ \hline \end{array}$$

$$\begin{array}{r} 24 \\ + 13 \\ \hline \end{array} \quad \begin{array}{r} 35 \\ + 24 \\ \hline \end{array} \quad \begin{array}{r} 60 \\ + 37 \\ \hline \end{array} \quad \begin{array}{r} 30 \\ + 70 \\ \hline \end{array} \quad \begin{array}{r} 50 \\ + 20 \\ \hline \end{array} \quad \begin{array}{r} 29 \\ + 70 \\ \hline \end{array}$$

(7) つぎの ひきざんを なさい。

$$\begin{array}{r} 75 \\ - 30 \\ \hline \end{array} \quad \begin{array}{r} 43 \\ - 20 \\ \hline \end{array} \quad \begin{array}{r} 58 \\ - 8 \\ \hline \end{array} \quad \begin{array}{r} 90 \\ - 60 \\ \hline \end{array} \quad \begin{array}{r} 70 \\ - 40 \\ \hline \end{array} \quad \begin{array}{r} 96 \\ - 30 \\ \hline \end{array}$$

$$\begin{array}{r} 68 \\ - 3 \\ \hline \end{array} \quad \begin{array}{r} 73 \\ - 3 \\ \hline \end{array} \quad \begin{array}{r} 86 \\ - 80 \\ \hline \end{array} \quad \begin{array}{r} 94 \\ - 70 \\ \hline \end{array} \quad \begin{array}{r} 57 \\ - 40 \\ \hline \end{array} \quad \begin{array}{r} 90 \\ - 40 \\ \hline \end{array}$$

テスト (11)

(1) つぎの けいざんを なさい。

$$\begin{array}{r} 2 \\ + 7 \\ \hline \end{array} \quad \begin{array}{r} 4 \\ + 3 \\ \hline \end{array} \quad \begin{array}{r} 7 \\ + 8 \\ \hline \end{array} \quad \begin{array}{r} 8 \\ + 5 \\ \hline \end{array} \quad \begin{array}{r} 9 \\ + 7 \\ \hline \end{array}$$

$$\begin{array}{r} 9 \\ - 6 \\ \hline \end{array} \quad \begin{array}{r} 10 \\ - 3 \\ \hline \end{array} \quad \begin{array}{r} 13 \\ - 8 \\ \hline \end{array} \quad \begin{array}{r} 14 \\ - 5 \\ \hline \end{array} \quad \begin{array}{r} 17 \\ - 8 \\ \hline \end{array}$$

(2) つぎの よせざんを なさい。

$$\begin{array}{r} 24 \\ + 8 \\ \hline \end{array} \quad \begin{array}{r} 37 \\ + 4 \\ \hline \end{array} \quad \begin{array}{r} 42 \\ + 9 \\ \hline \end{array} \quad \begin{array}{r} 55 \\ + 7 \\ \hline \end{array} \quad \begin{array}{r} 68 \\ + 8 \\ \hline \end{array}$$

$$\begin{array}{r} 3 \\ + 79 \\ \hline \end{array} \quad \begin{array}{r} 6 \\ + 88 \\ \hline \end{array} \quad \begin{array}{r} 9 \\ + 16 \\ \hline \end{array} \quad \begin{array}{r} 4 \\ + 78 \\ \hline \end{array} \quad \begin{array}{r} 7 \\ + 35 \\ \hline \end{array}$$

(3) つぎの けいざんを なさい。

$$\begin{array}{r} 40 \\ + 27 \\ \hline \end{array} \quad \begin{array}{r} 38 \\ + 60 \\ \hline \end{array} \quad \begin{array}{r} 74 \\ + 23 \\ \hline \end{array} \quad \begin{array}{r} 35 \\ + 44 \\ \hline \end{array} \quad \begin{array}{r} 40 \\ + 60 \\ \hline \end{array}$$

$$\begin{array}{r} 80 \\ -60 \\ \hline \end{array} \quad \begin{array}{r} 97 \\ -70 \\ \hline \end{array} \quad \begin{array}{r} 58 \\ -8 \\ \hline \end{array} \quad \begin{array}{r} 76 \\ -30 \\ \hline \end{array} \quad \begin{array}{r} 94 \\ -40 \\ \hline \end{array}$$

(4) つぎの よせぎんを なさい。

$$\begin{array}{r} 39 \\ +8 \\ \hline \end{array} \quad \begin{array}{r} 54 \\ +9 \\ \hline \end{array} \quad \begin{array}{r} 48 \\ +7 \\ \hline \end{array} \quad \begin{array}{r} 68 \\ +6 \\ \hline \end{array} \quad \begin{array}{r} 36 \\ +7 \\ \hline \end{array}$$

$$\begin{array}{r} 7 \\ +67 \\ \hline \end{array} \quad \begin{array}{r} 8 \\ +76 \\ \hline \end{array} \quad \begin{array}{r} 3 \\ +88 \\ \hline \end{array} \quad \begin{array}{r} 8 \\ +55 \\ \hline \end{array} \quad \begin{array}{r} 7 \\ +38 \\ \hline \end{array}$$

(5) みかんを
よそへ おくる
ためにはこに
つめました。47
で いっぱいに
なりましたが、まだ 9 のこって
います。みかんは みんなで いくつ
でしょう。



12 あきの おにわ



かず子さんの お花ばたけに コス
モスが きれいに さいて います。

(1) きょうは あかい 花が 27
としるい 花が 19 さいて い
ます。あわせて いくつですか。

$$\begin{array}{c} \textcircled{10} \textcircled{10} \textcircled{10} \textcircled{10} \textcircled{10} \\ \textcircled{10} \textcircled{10} \end{array} + \begin{array}{c} \textcircled{10} \textcircled{10} \textcircled{10} \textcircled{10} \\ \textcircled{10} \textcircled{10} \end{array} = \begin{array}{c} \textcircled{10} \textcircled{10} \textcircled{10} \textcircled{10} \textcircled{10} \\ \textcircled{10} \textcircled{10} \end{array}$$

27に 19を たすには 27+10は 37で
37+9は 46ですから 27+19=46 です。

また、 $27+9$ は 36で それに 10を よ

せても 46に なります。

この けいさんは 一の く $7+9$
 $=16$

らいは $9+7=16$ で 16は

十の かたまり 一つと、 一

が 六つですから、一の くら $+1$

いに 6を かき、十の かたまり 一つを

十の くらいに よせると $1+2+1$ です

から、4に なります。4を 十の くらい

にかきます。こたえは 46です。

(2) もう じきに さきそいな、つ
 ぼみが 18 あります。

これが さいたら 花

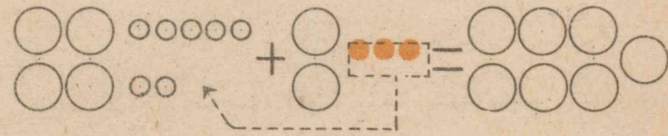
は みんなで いくつに

なりますか

$$\begin{array}{r} | \\ 27 \\ +19 \\ \hline 46 \end{array}$$

$$\begin{array}{r} | \\ 46 \\ +18 \\ \hline 4 \end{array}$$

(3) 下の よせざんが わかりますか。



$$\begin{array}{r} 47 \\ +23 \\ \hline 70 \end{array}$$

一のくらいに なぜ 0
 を かいたのでしょうか。

十のくらいは どうして

7に なるのでしょうか。

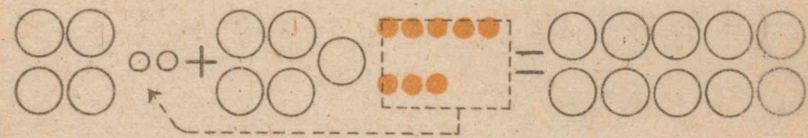
(4) つぎの よせざんを なさい。

$$\begin{array}{r} 12 \\ +19 \\ \hline \end{array} \quad \begin{array}{r} 36 \\ +27 \\ \hline \end{array} \quad \begin{array}{r} 45 \\ +45 \\ \hline \end{array} \quad \begin{array}{r} 54 \\ +28 \\ \hline \end{array} \quad \begin{array}{r} 68 \\ +22 \\ \hline \end{array} \quad \begin{array}{r} 27 \\ +49 \\ \hline \end{array}$$

(5) みぎの よせ

$$\begin{array}{r} 42 \\ +58 \\ \hline 90 \end{array} \quad \begin{array}{r} | \\ 42 \\ +58 \\ \hline 100 \end{array}$$

ただしいでしょう。



(6) つぎの よせざんを なさい。

$$\begin{array}{r} 27 \quad 45 \quad 38 \quad 54 \quad 79 \\ +73 \quad +55 \quad +52 \quad +46 \quad +21 \\ \hline \end{array}$$

(7) 上のとどおりと 下の とおり
と こたえを くらべて ごらん。

$$\begin{array}{r} 7 \quad 26 \quad 40 \quad 35 \quad 64 \quad 43 \\ +8 \quad +9 \quad +60 \quad +27 \quad +18 \quad +57 \\ \hline \end{array}$$

$$\begin{array}{r} 8 \quad 9 \quad 60 \quad 27 \quad 18 \quad 57 \\ +7 \quad +26 \quad +40 \quad +35 \quad +64 \quad +43 \\ \hline \end{array}$$

(8) よせざんの こたえが ただし
いか どうかを たしかめるには、二
つの かずを いれかえて $\overset{1}{18}$ $\overset{1}{39}$
よせて みて、りょうほう $\frac{+39}{57}$ $\frac{+18}{57}$
の こたえが あえば よいのです。

(9) (6) のこたえをたしかめなさい。



きくの花

かず子さんの

おじさんは きく
つくりが じょう
ずです。

(1) かず子さんは おじい
さんの おてつだいを しな
がら はちの かずを かぞ
えて みました。

き色な 花の はちが 38
で その ほかの 色の はち
は 27でした。みんなで いく
はちに なりますか。 $\frac{38}{+27}$





(2) まえの ページの えのよう な
 一ぱんの きくに き色の 花が 76
 さいて います。つぼみが 19 つい
 て います。みんな さいたら 花は
 いくつに なるでしょう。

(3) □の 中は いくつですか。

$$\begin{array}{r} \square \\ + 26 \\ \hline 41 \end{array} \quad \begin{array}{r} 48 \\ + 1\square \\ \hline 63 \end{array} \quad \begin{array}{r} 46 \\ + \square 4 \\ \hline 70 \end{array} \quad \begin{array}{r} 7\square \\ + 23 \\ \hline 100 \end{array}$$

$$\square + 80 = 100 \quad 60 + \square = 100$$

(4) つぎの よせざんを なさい。

$$\begin{array}{r} 26 \\ + 45 \\ \hline \end{array} \quad \begin{array}{r} 53 \\ + 39 \\ \hline \end{array} \quad \begin{array}{r} 48 \\ + 25 \\ \hline \end{array} \quad \begin{array}{r} 63 \\ + 18 \\ \hline \end{array} \quad \begin{array}{r} 74 \\ + 17 \\ \hline \end{array}$$

$$\begin{array}{r} 67 \\ + 18 \\ \hline \end{array} \quad \begin{array}{r} 55 \\ + 17 \\ \hline \end{array} \quad \begin{array}{r} 38 \\ + 28 \\ \hline \end{array} \quad \begin{array}{r} 29 \\ + 36 \\ \hline \end{array} \quad \begin{array}{r} 46 \\ + 48 \\ \hline \end{array}$$

(5) つぎの よせざんは すぐに
 できますか。

$$\begin{array}{r} 73 \\ + 17 \\ \hline \end{array} \quad \begin{array}{r} 52 \\ + 48 \\ \hline \end{array} \quad \begin{array}{r} 26 \\ + 74 \\ \hline \end{array}$$

(6) つぎの よせざんを なさい。

$$\begin{array}{r} 18 \\ + 22 \\ \hline \end{array} \quad \begin{array}{r} 47 \\ + 53 \\ \hline \end{array} \quad \begin{array}{r} 36 \\ + 54 \\ \hline \end{array} \quad \begin{array}{r} 65 \\ + 35 \\ \hline \end{array} \quad \begin{array}{r} 51 \\ + 29 \\ \hline \end{array}$$

$$\begin{array}{r} 24 \\ + 76 \\ \hline \end{array} \quad \begin{array}{r} 39 \\ + 31 \\ \hline \end{array} \quad \begin{array}{r} 75 \\ + 25 \\ \hline \end{array} \quad \begin{array}{r} 42 \\ + 48 \\ \hline \end{array} \quad \begin{array}{r} 13 \\ + 87 \\ \hline \end{array}$$

(7) つぎの よせざんを なさい。

$$\begin{array}{r} 4 \\ + 9 \\ \hline \end{array} \quad \begin{array}{r} 13 \\ + 8 \\ \hline \end{array} \quad \begin{array}{r} 24 \\ + 29 \\ \hline \end{array} \quad \begin{array}{r} 35 \\ + 8 \\ \hline \end{array} \quad \begin{array}{r} 46 \\ + 29 \\ \hline \end{array}$$

まとめ

つぎのような くりあがりの
ある よせざんが よく でき
るように なりましたか。

$$\begin{array}{r}
 37 \\
 +16 \\
 \hline
 63
 \end{array}
 \quad
 \begin{array}{r}
 48 \\
 +27 \\
 \hline
 75
 \end{array}
 \quad
 \begin{array}{r}
 56 \\
 +39 \\
 \hline
 95
 \end{array}
 \quad
 \begin{array}{r}
 68 \\
 +28 \\
 \hline
 96
 \end{array}$$

おけいこ

(1) かず
子さんと
あけみさん
とが くみ
になり、



ふみ子さんと すみ子さんとが くみ
になって、まりつきを しました。

かず子さん

かず子	38
あけみ	35

ふみ子	47
すみ子	29

の ほうは

いくつですか。ふみ子さんの ほうは
いくつですか。

どちらが 勝ちましたか。

(2) 本が 大きな
本だなに 46 さつ、小
さな 本だなに、29
さつ あります。

みんなで なんさつ
ありますか。

(3) ひとに かして
ある 8 さつが かえ
って きたら、なんさ
つに なるでしょう。



(4) つぎの よせざんを なさい。

$$\begin{array}{r} 7 \\ +4 \\ \hline \end{array} \quad \begin{array}{r} 2 \\ +7 \\ \hline \end{array} \quad \begin{array}{r} 5 \\ +2 \\ \hline \end{array} \quad \begin{array}{r} 8 \\ +5 \\ \hline \end{array} \quad \begin{array}{r} 3 \\ +8 \\ \hline \end{array} \quad \begin{array}{r} 6 \\ +3 \\ \hline \end{array}$$

$$\begin{array}{r} 9 \\ +6 \\ \hline \end{array} \quad \begin{array}{r} 5 \\ +4 \\ \hline \end{array} \quad \begin{array}{r} 8 \\ +7 \\ \hline \end{array} \quad \begin{array}{r} 3 \\ +2 \\ \hline \end{array} \quad \begin{array}{r} 6 \\ +5 \\ \hline \end{array} \quad \begin{array}{r} 9 \\ +8 \\ \hline \end{array}$$

$$\begin{array}{r} 4 \\ +3 \\ \hline \end{array} \quad \begin{array}{r} 7 \\ +6 \\ \hline \end{array} \quad \begin{array}{r} 3 \\ +9 \\ \hline \end{array} \quad \begin{array}{r} 6 \\ +4 \\ \hline \end{array} \quad \begin{array}{r} 9 \\ +7 \\ \hline \end{array} \quad \begin{array}{r} 5 \\ +5 \\ \hline \end{array}$$

$$\begin{array}{r} 70 \\ +30 \\ \hline \end{array} \quad \begin{array}{r} 50 \\ +40 \\ \hline \end{array} \quad \begin{array}{r} 60 \\ +20 \\ \hline \end{array} \quad \begin{array}{r} 80 \\ +20 \\ \hline \end{array} \quad \begin{array}{r} 30 \\ +60 \\ \hline \end{array} \quad \begin{array}{r} 60 \\ +40 \\ \hline \end{array}$$

(5) つぎの ひきざんを なさい。

$$\begin{array}{r} 8 \\ -4 \\ \hline \end{array} \quad \begin{array}{r} 6 \\ -3 \\ \hline \end{array} \quad \begin{array}{r} 9 \\ -5 \\ \hline \end{array} \quad \begin{array}{r} 5 \\ -2 \\ \hline \end{array} \quad \begin{array}{r} 7 \\ -3 \\ \hline \end{array} \quad \begin{array}{r} 9 \\ -6 \\ \hline \end{array}$$

$$\begin{array}{r} 12 \\ -7 \\ \hline \end{array} \quad \begin{array}{r} 14 \\ -8 \\ \hline \end{array} \quad \begin{array}{r} 16 \\ -9 \\ \hline \end{array} \quad \begin{array}{r} 18 \\ -9 \\ \hline \end{array} \quad \begin{array}{r} 13 \\ -6 \\ \hline \end{array} \quad \begin{array}{r} 15 \\ -8 \\ \hline \end{array}$$

$$\begin{array}{r} 10 \\ -8 \\ \hline \end{array} \quad \begin{array}{r} 17 \\ -8 \\ \hline \end{array} \quad \begin{array}{r} 15 \\ -7 \\ \hline \end{array} \quad \begin{array}{r} 10 \\ -7 \\ \hline \end{array} \quad \begin{array}{r} 13 \\ -7 \\ \hline \end{array} \quad \begin{array}{r} 14 \\ -9 \\ \hline \end{array}$$

(6) つぎの よせざんを なさい。

$$\begin{array}{r} 75 \\ +18 \\ \hline \end{array} \quad \begin{array}{r} 37 \\ +37 \\ \hline \end{array} \quad \begin{array}{r} 44 \\ +29 \\ \hline \end{array} \quad \begin{array}{r} 28 \\ +26 \\ \hline \end{array} \quad \begin{array}{r} 57 \\ +38 \\ \hline \end{array}$$

$$\begin{array}{r} 26 \\ +47 \\ \hline \end{array} \quad \begin{array}{r} 18 \\ +57 \\ \hline \end{array} \quad \begin{array}{r} 34 \\ +28 \\ \hline \end{array} \quad \begin{array}{r} 55 \\ +39 \\ \hline \end{array} \quad \begin{array}{r} 46 \\ +35 \\ \hline \end{array}$$

$$\begin{array}{r} 32 \\ +58 \\ \hline \end{array} \quad \begin{array}{r} 25 \\ +75 \\ \hline \end{array} \quad \begin{array}{r} 57 \\ +23 \\ \hline \end{array} \quad \begin{array}{r} 44 \\ +56 \\ \hline \end{array} \quad \begin{array}{r} 29 \\ +21 \\ \hline \end{array}$$

$$\begin{array}{r} 51 \\ +49 \\ \hline \end{array} \quad \begin{array}{r} 14 \\ +46 \\ \hline \end{array} \quad \begin{array}{r} 33 \\ +67 \\ \hline \end{array} \quad \begin{array}{r} 45 \\ +15 \\ \hline \end{array} \quad \begin{array}{r} 62 \\ +38 \\ \hline \end{array}$$

(7) □の中は いくつですか。

$$\begin{array}{r} 28 \\ +\square 6 \\ \hline 94 \end{array} \quad \begin{array}{r} 3\square \\ +\square 7 \\ \hline 65 \end{array} \quad \begin{array}{r} 5\square \\ +\square 9 \\ \hline 90 \end{array} \quad \begin{array}{r} 2\square \\ +78 \\ \hline 100 \end{array}$$

テスト (12)



(1) まさおさんの
うちの おにはにさ
ざんかが さきまし
た。もも色のが 37でしろのが 29で
す。みんなで いくつでしょう。

(2) つぎのよせざんを なさい。

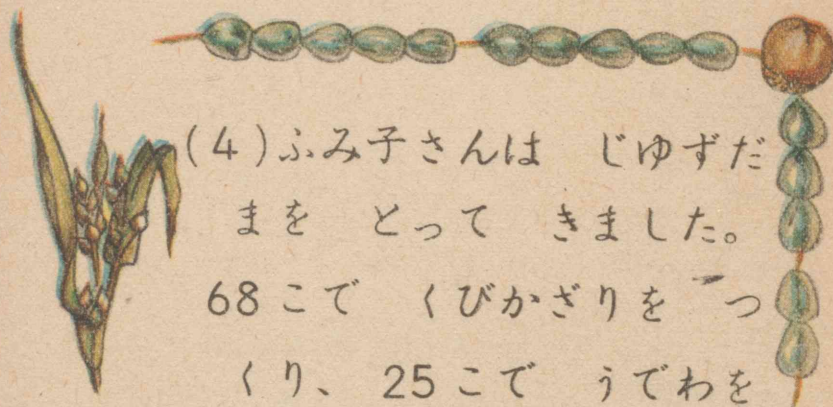
$$\begin{array}{r} 25 \\ + 8 \\ \hline \end{array} \quad \begin{array}{r} 37 \\ + 3 \\ \hline \end{array} \quad \begin{array}{r} 49 \\ + 6 \\ \hline \end{array} \quad \begin{array}{r} 53 \\ + 8 \\ \hline \end{array} \quad \begin{array}{r} 62 \\ + 9 \\ \hline \end{array}$$

$$\begin{array}{r} 74 \\ + 9 \\ \hline \end{array} \quad \begin{array}{r} 86 \\ + 7 \\ \hline \end{array} \quad \begin{array}{r} 58 \\ + 4 \\ \hline \end{array} \quad \begin{array}{r} 37 \\ + 5 \\ \hline \end{array} \quad \begin{array}{r} 86 \\ + 4 \\ \hline \end{array}$$

(3) つぎのよせざんを なさい。

$$\begin{array}{r} 12 \\ + 59 \\ \hline \end{array} \quad \begin{array}{r} 34 \\ + 48 \\ \hline \end{array} \quad \begin{array}{r} 56 \\ + 27 \\ \hline \end{array} \quad \begin{array}{r} 78 \\ + 16 \\ \hline \end{array} \quad \begin{array}{r} 23 \\ + 69 \\ \hline \end{array}$$

$$\begin{array}{r} 45 \\ + 29 \\ \hline \end{array} \quad \begin{array}{r} 67 \\ + 14 \\ \hline \end{array} \quad \begin{array}{r} 59 \\ + 35 \\ \hline \end{array} \quad \begin{array}{r} 38 \\ + 37 \\ \hline \end{array} \quad \begin{array}{r} 64 \\ + 19 \\ \hline \end{array}$$



(4) ふみ子さんは じゆずだ
まを とって きました。
68こで くびかざりを つ
くり、 25こで うでわを
つくりましたが、5こ のこりました。

いくつ とって きたのでしょう。

(5) つぎのよせざんを なさい。

$$\begin{array}{r} 30 \\ + 70 \\ \hline \end{array} \quad \begin{array}{r} 47 \\ + 43 \\ \hline \end{array} \quad \begin{array}{r} 25 \\ + 65 \\ \hline \end{array} \quad \begin{array}{r} 83 \\ + 17 \\ \hline \end{array} \quad \begin{array}{r} 69 \\ + 31 \\ \hline \end{array}$$

$$\begin{array}{r} 14 \\ + 66 \\ \hline \end{array} \quad \begin{array}{r} 58 \\ + 42 \\ \hline \end{array} \quad \begin{array}{r} 60 \\ + 40 \\ \hline \end{array} \quad \begin{array}{r} 72 \\ + 18 \\ \hline \end{array} \quad \begin{array}{r} 50 \\ + 50 \\ \hline \end{array}$$

これまでの おけいこ

(1) 下の ひょうを つかって よ
せざんが はやく できる ように し
ましょう。

		もとのかず									
		0	1	2	3	4	5	6	7	8	9
よ せ ざ ん の ひ ょう	0	0	1	2	3	4	5	6	7	8	9
	1	1	2	3	4	5	6	7	8	9	10
	2	2	3	4	5	6	7	8	9	10	11
	3	3	4	5	6	7	8	9	10	11	12
	4	4	5	6	7	8	9	10	11	12	13
	5	5	6	7	8	9	10	11	12	13	14
	6	6	7	8	9	10	11	12	13	14	15
	7	7	8	9	10	11	12	13	14	15	16
	8	8	9	10	11	12	13	14	15	16	17
	9	9	10	11	12	13	14	15	16	17	18

つかいかたを わすれた ひとは
二年上の 100 ページを ごらん
なさい。

(2) あけみさんの うちの たたみ
の へやは、八じょう・六じょう・三
じょうの 三へやです。みんな
で なんじょうですか。



(3) 六じょうの へやの
たてと よこは それぞれ
なんメートルなんセンチか
はかりましょう。

(4) つぎの けいさんを なさい。

$$\begin{array}{r} 4 \quad 7 \quad 2 \quad 5 \quad 8 \quad 3 \quad 6 \\ +9 \quad +4 \quad +9 \quad +7 \quad +5 \quad +8 \quad +7 \end{array}$$

$$\begin{array}{r} 14 \quad 17 \quad 12 \quad 15 \quad 18 \quad 13 \quad 16 \\ -7 \quad +8 \quad -6 \quad -8 \quad -9 \quad -6 \quad -8 \end{array}$$

$$\begin{array}{r} 1 \quad 20 \quad 17 \\ 13 \quad 8 \quad 40 \quad 97 \quad 88 \quad 74 \quad 97 \\ +15 \quad +9 \quad +6 \quad -60 \quad -8 \quad -40 \quad -2 \end{array}$$

しあげテスト (6)

(1) 250 cmは なんメートル
なんセンチですか。

(2) つぎの よせぎんを なさい。

3	8	17	26	72
<u>+6</u>	<u>+7</u>	<u>+9</u>	<u>+7</u>	<u>+8</u>
54	74	64	53	36
<u>+13</u>	<u>+16</u>	<u>+19</u>	<u>+47</u>	<u>+57</u>

(3) 2しゅうかんと 6日では なん日ですか。

(4) つぎの ひぎぎんを なさい。

9	19	14	13	86
<u>-2</u>	<u>-4</u>	<u>-8</u>	<u>-6</u>	<u>-20</u>
95	80	74	90	67
<u>-5</u>	<u>-30</u>	<u>-40</u>	<u>-50</u>	<u>-4</u>

13 お正月



あたらしい
カレンダー

まさおさん
は あたらし
い カレンダ
ーをみて、
つぎのように
いろいろな

ことを しらべました。

(1) 日曜日 が 6, 13, 20, 27
と ならんで いるのを みて、ひだ


$$6 + 7 = 13$$

$$13 + 7 = 20$$

$$20 + 7 = 27$$

りのように、7ずつ
たせば つぎの
日曜日 が なん日

昭和 27年 1月 1952年



日	月	火	水	木	金	土
		1	2	3	4	5
6	7	8	9	10	11	12
13	14	15	16	17	18	19
20	21	22	23	24	25	26
27	28	29	30	31		

2月

日	月	火	水	木	金	土
					1	2
3	4	5	6	7	8	9
10	11	12	13	14	15	16
17	18	19	20	21	22	23
24	25	26	27	28	29	

3月

日	月	火	水	木	金	土
						1
2	3	4	5	6	7	8
9	10	11	12	13	14	15
16	17	18	19	20	21	22
23 30	24 31	25	26	27	28	29

で あるか わかると おもって、お
かあさんに おはなし しました。

おかあさん「そうです。よい ことに
きが つきました。日曜日 から、土
曜日 までは 7日 で、それを 1しゅ
うかんと いいましたね。」

一月 七日は、月曜日 でした。つぎ
の 月曜日 は なん日 ですか。

二月 二日は、土曜日 です。つぎの
土曜日 は いつ ですか。カレンダ
ーを みて、それを しるには ど

う しますか。

(2) 一月は なん日 ありますか。

二月は なん日ですか。

三月は なん日ですか。

●きょねんや らいねんの 二月は なん日でしょう。

おかあさんに きいて ごらんなさい。

(3) 一月の おいおい日は いつどいつですか。三月の おいおい日はいつですか。

(4) 一月・二月・三月の 中で 日よう日の 一ばん おおいは なん月ですか。

(5) 一月一日から 三月三
十一日までは なん日 あり

31
29
+31

ますか。 その あいだに
日よう日は なん日 ありますか。

学校の おけいこ日

(1) 三月一日から 二十日までの
日よう日は 二日と 九日と 十六日で
す。三月の学校の おけいこ日は な
ん日でしょう。

20-3

20は 10と 10です。



かたほうの 10から

3を とると 7ですから、

こたえは 17に なります。

三月の おけいこ日は 17日です。

この けいさんは 2の 0の

下に 3を かきなさい。

20
- 3
17

0から 3は ひけないが 20

は 十の かたまり 二つだから、

まず 十の くらいから 十の かたまり
 一つを とりなさい。十の くらいは 十の
 かたまり 一つに なります。さきに とっ
 た 10 から 3 を ひくと 7 です。

この 7 を 一の くらいに かきます。

十の くらいは のこっている 1 を お
 ろします。こたえは 17 です。

(2) 下の けいさんが わかりますか。

$$\begin{array}{r} 2 \\ 30 \\ -7 \\ \hline 23 \end{array} \quad \begin{array}{c} \textcircled{10} \text{ oooo} \\ \text{oooo} \end{array} \quad \begin{array}{r} 4 \\ 50 \\ -6 \\ \hline 44 \end{array} \quad \begin{array}{c} \textcircled{10} \textcircled{10} \text{ ooooo} \\ \text{oooo} \end{array}$$

(3) つぎの けいさんを なさい。

$$\begin{array}{r} 30 \\ -4 \\ \hline \end{array} \quad \begin{array}{r} 50 \\ -8 \\ \hline \end{array} \quad \begin{array}{r} 80 \\ -5 \\ \hline \end{array} \quad \begin{array}{r} 20 \\ -1 \\ \hline \end{array} \quad \begin{array}{r} 90 \\ -2 \\ \hline \end{array} \quad \begin{array}{r} 70 \\ -3 \\ \hline \end{array}$$

$$47 - 4 \quad 59 - 6 \quad 86 - 50$$

(4) 三がっきの ~~1 2 3 4 5 6 7 8 9 10~~
 はじめは 一月八 ~~11 12 13 14 15 16 17 18 19 20~~
 日でした。その日 ~~21 22 23 24 25 26 27 28 29 30~~
 31

から 一月の おわりまでは なん日
 でしょう。

$$31 - 7 \quad \begin{array}{c} \textcircled{\text{oooo}} \text{oo} \\ \text{oooo} \end{array} \quad \begin{array}{r} 2 \\ 31 \\ -7 \\ \hline 24 \end{array}$$


この けいさんは みぎのよ
 うに 1 から 7 は ひけない
 ので 30 から 10 とって 1 と


あわせて 11 とし、11 から 7 ひいた
 4 を 一の くらいに かきます。

30 は 10 かしたので 20 に なって
 います。その 2 を おろして 十の
 くらいに 2 と かきます。

こたえは 24 日 です。

(5) つぎの ひきざんを なさい。

$$\begin{array}{r} 2 \\ 34 \\ - 6 \\ \hline 8 \end{array}$$


$$\begin{array}{r} 4 \\ 53 \\ - 7 \\ \hline \end{array}$$


$$\begin{array}{r} 24 \\ - 8 \\ \hline \end{array}$$

$$\begin{array}{r} 37 \\ - 8 \\ \hline \end{array}$$

$$\begin{array}{r} 56 \\ - 9 \\ \hline \end{array}$$

$$\begin{array}{r} 72 \\ - 4 \\ \hline \end{array}$$

$$\begin{array}{r} 91 \\ - 5 \\ \hline \end{array}$$

$$\begin{array}{r} 83 \\ - 7 \\ \hline \end{array}$$

$$\begin{array}{r} 65 \\ - 7 \\ \hline \end{array}$$

$$\begin{array}{r} 48 \\ - 9 \\ \hline \end{array}$$

$$\begin{array}{r} 71 \\ - 3 \\ \hline \end{array}$$

$$\begin{array}{r} 53 \\ - 6 \\ \hline \end{array}$$

$$\begin{array}{r} 44 \\ - 7 \\ \hline \end{array}$$

$$\begin{array}{r} 66 \\ - 8 \\ \hline \end{array}$$

(6) みぎの ニくみの ①

けいさんを よく みて

$$\begin{array}{r} 7 \quad 8 \\ 80 \quad 74 \\ - 6 \quad + 6 \\ \hline 74 \quad 80 \end{array}$$

ください。

よせざんは ひきざん

の こたえが ただしいか

を たしかめたのです。

$$\begin{array}{r} 5 \quad 6 \\ 65 \quad 57 \\ - 8 \quad + 8 \\ \hline 57 \quad 65 \end{array}$$

なにに なにを

たして なにに なりましたか。

まとめ

つぎの ことが よく できるよ
うに なりましたか。

(1) きょうの よう日とおなじつ
ぎの よう日が なん日で あるかを
みつけるには、きょうの 日かずに
7日を よせれば よい こと。

(2)

$$\begin{array}{r} 6 \quad 5 \\ 70 \quad 90 \quad 82 \quad 74 \text{のよ} \\ - 8 \quad - 6 \quad - 7 \quad - 9 \quad \text{うな} \\ \hline 62 \quad 55 \end{array}$$

くりさがりの ある ひきざん。

(3) ひきざんの こたえを よせ
ざんで たしかめる しかた。

おけいこ

(1) まさおさんの としは 七つ

で、おとうさんは42です。いくつ
ちがいますか。

おかあさんは35です。まさおさん
といくつちがいますか。

(2) つぎのページのひょうには
一ばん上に ならんで いる か
ずから 一ばん ひだりに ならんで
いるかずを ひいたこたえが 中に
かいて あります。11-3はいくつ
ですか。それは ひょうの どこに
かいて ありますか。13-6の とき
は どこを みれば よいでしょう。

この ひょうを つかって おけい
こを して、みないで はやく こた
えが いえるように なりましょう。

もとのかず

		10	11	12	13	14	15	16	17	18	19
ひ く か ず	1	9	10	11	12	13	14	15	16	17	18
	2	8	9	10	11	12	13	14	15	16	17
	3	7	8	9	10	11	12	13	14	15	16
	4	6	7	8	9	10	11	12	13	14	15
	5	5	6	7	8	9	10	11	12	13	14
	6	4	5	6	7	8	9	10	11	12	13
	7	3	4	5	6	7	8	9	10	11	12
	8	2	3	4	5	6	7	8	9	10	11
	9	1	2	3	4	5	6	7	8	9	10

(3) つぎの ひきざんは こたえを、

よせざんで たしかめて みましょう。

$$\begin{array}{r} 40 \quad 70 \quad 90 \quad 50 \quad 80 \quad 60 \\ - 5 \quad - 8 \quad - 3 \quad - 6 \quad - 9 \quad - 7 \\ \hline \end{array}$$

$$\begin{array}{r} 72 \quad 65 \quad 63 \quad 31 \quad 46 \quad 53 \\ - 6 \quad - 9 \quad - 7 \quad - 4 \quad - 8 \quad - 5 \\ \hline \end{array}$$

$$\begin{array}{r} 56 \quad 94 \quad 82 \quad 45 \quad 33 \quad 54 \\ - 7 \quad - 8 \quad - 9 \quad - 6 \quad - 4 \quad - 7 \\ \hline \end{array}$$

テスト(13)



(1) あけみさんの
はごいたは 85 円で、
いもうどのは 7 円
やすかったそうで
す。いもうどのは なん円ですか。

(2) あけみさんの としは 八つで
す。おばあさんは ちょうど 七十で
す。いくつ ちがいますか。

(3) つぎの ひきざんを なさい。

$$\begin{array}{r} 13 \\ - 9 \\ \hline \end{array} \quad \begin{array}{r} 15 \\ - 7 \\ \hline \end{array} \quad \begin{array}{r} 20 \\ - 3 \\ \hline \end{array} \quad \begin{array}{r} 17 \\ - 8 \\ \hline \end{array} \quad \begin{array}{r} 14 \\ - 6 \\ \hline \end{array}$$

$$\begin{array}{r} 40 \\ - 4 \\ \hline \end{array} \quad \begin{array}{r} 16 \\ - 9 \\ \hline \end{array} \quad \begin{array}{r} 60 \\ - 7 \\ \hline \end{array} \quad \begin{array}{r} 18 \\ - 9 \\ \hline \end{array} \quad \begin{array}{r} 70 \\ - 8 \\ \hline \end{array}$$

(4) おてらの
やねに 36 ぱの
はとが いました。



9 わ とびたち
ました。のこりは なんば ですか。

(5) つぎの ひきざんを なさい。

①

$$\begin{array}{r} 50 \\ - 30 \\ \hline \end{array} \quad \begin{array}{r} 14 \\ - 9 \\ \hline \end{array} \quad \begin{array}{r} 69 \\ - 9 \\ \hline \end{array} \quad \begin{array}{r} 28 \\ - 6 \\ \hline \end{array} \quad \begin{array}{r} 90 \\ - 40 \\ \hline \end{array} \quad \begin{array}{r} 73 \\ - 60 \\ \hline \end{array}$$

$$\begin{array}{r} 17 \\ - 8 \\ \hline \end{array} \quad \begin{array}{r} 67 \\ - 5 \\ \hline \end{array} \quad \begin{array}{r} 70 \\ - 30 \\ \hline \end{array} \quad \begin{array}{r} 58 \\ - 30 \\ \hline \end{array} \quad \begin{array}{r} 13 \\ - 7 \\ \hline \end{array} \quad \begin{array}{r} 98 \\ - 8 \\ \hline \end{array}$$

②


$$\begin{array}{r} 59 \\ - 39 \\ \hline \end{array} \quad \begin{array}{r} 65 \\ - 7 \\ \hline \end{array} \quad \begin{array}{r} 92 \\ - 7 \\ \hline \end{array} \quad \begin{array}{r} 54 \\ - 8 \\ \hline \end{array} \quad \begin{array}{r} 96 \\ - 44 \\ \hline \end{array} \quad \begin{array}{r} 87 \\ - 9 \\ \hline \end{array}$$

$$\begin{array}{r} 52 \\ - 6 \\ \hline \end{array} \quad \begin{array}{r} 86 \\ - 8 \\ \hline \end{array} \quad \begin{array}{r} 47 \\ - 8 \\ \hline \end{array} \quad \begin{array}{r} 63 \\ - 6 \\ \hline \end{array} \quad \begin{array}{r} 73 \\ - 7 \\ \hline \end{array} \quad \begin{array}{r} 76 \\ - 9 \\ \hline \end{array}$$



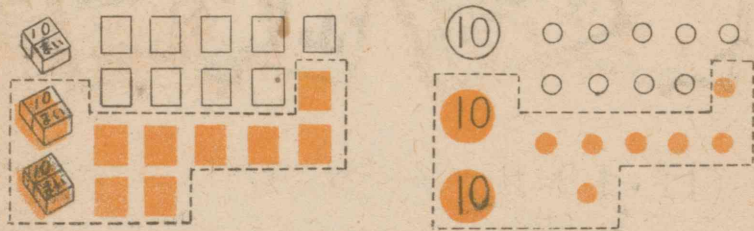
(1) まさおさんたちは 下のずのよ
うな 大きさの かるたを つくる
ことに しました。たて・よこ それぞ
れ なんセンチで
すか。

(2) まさおさん
と かず子さんは
よみふだを 47ま
い つくる こと
に しました。



27まい できました。あと なん
まい つくれば よいでしょ。

$$47 - 28$$



この けいさんは みぎの

ように 7から 8は ひ

けないので 40から10

とり、7と あわせて17

17から 8を ひいて

9と かきます。

つぎに40は 30に な

って いますから 30から 20を とつた 10

の 1を 十のくらいに かきます。

$$15 - 7 \dots\dots 9$$

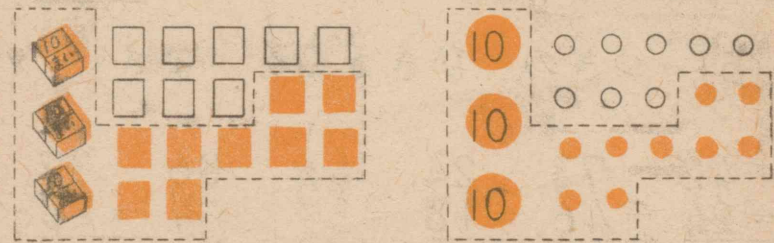
$$3 - 2 \dots\dots 1$$

$$\begin{array}{r} 3 \\ 47 \\ - 28 \\ \hline 19 \end{array}$$

こたえは 19です。まさおさんたち
は あと 19まい つくるのです。

(3) ひろしさんと ふみ子さんは
とりふだを 47まい つくるのです。
もう 39まい できました。あと
なんまい つくれば よいでしょ。

$$47 - 39$$



けいさんは みぎのよう

です。しかたが わかりま

すか。上の 小さな 3は なぜか

たのでしょ。十の くらいの下

$$\begin{array}{r} 3 \\ 47 \\ - 39 \\ \hline 8 \end{array}$$

には なぜ なにも かかないのですか。こたえは 8 ですね。

あと 8まい つくれば よいのです。

(4) ことばは 4人で 38まいぶん

つくりましたが、あとは おかあさんに かんがえて いただきました。

かんがえて いただいたのは $\begin{array}{r} 3 \\ \cdot 47 \\ \hline -38 \end{array}$
なんまいですか。

(5) つぎの ひきぎんを なさい。

$$\begin{array}{r} 42 \quad 73 \quad 24 \quad 55 \quad 86 \quad 37 \\ -24 \quad -46 \quad -18 \quad -37 \quad -49 \quad -18 \end{array}$$


$$\begin{array}{r} 68 \quad 91 \quad 49 \quad 72 \quad 23 \quad 54 \\ -39 \quad -53 \quad -26 \quad -65 \quad -18 \quad -25 \end{array}$$

(6)

ことばの カードも えのカードも 47まいずつできました。みんなで なんまい できましたか。

かるたとり

(1) ふみ子さんが よみて になって かるたとりを しました。3人は とった かるたを ならべて みました。それぞれ なんまい とりましたか。まさおさんは かるた 1まいを ○一つと して ほうがんしに ずをかきました。わたくしたちも かいてみましょう。



(2) よみてが じゅんに かわって あと 3かい とりました。4人の とった まいすうは つぎの ひょうの ようです。

	一 かいめ	二 かいめ	三 かいめ	四 かいめ
ふみ子	よみて	20	24	23
かず子	12	よみて	11	10
ひろし	21	17	よてみ	14
まさお	14	10	12	よみて


① 4人は それぞれ あわせて なんまいずつ ありましたか。

② おんなは あわせて なんまいですか。

③ おこどば あわせて

$$\begin{array}{r} 52 \quad 67 \\ + 36 \quad + 33 \\ \hline \end{array}$$
 なんまいでしょう。

④ おんなの ほうが なんまい おお いてしょう。
 $100 - 88$



この けいさんは みぎの ように します。

一のくらはひ $10 - 8$

けない。十のくらはひ 0でかりられ

①	②
9	9
$\times 100$	$\times 100$
$- 88$	$- 88$
<hr/>	<hr/>
2	12



ません。そこで 100から 10 かりて 90を のこして おき 一のくらは かりた 10から 8を ひいて 2です。

十のくらは $9 - 8$ で 1です。

こたえは 12に なります。

おんなが 12まい かったのです。

⑤ つぎの けいさんが わかりますか。



(3) つぎの ひきざんを して、こたえを よせざんで たしかめなさい。

①
$$\begin{array}{r} 100 \\ - 47 \\ \hline \end{array} \quad \begin{array}{r} 100 \\ - 25 \\ \hline \end{array} \quad \begin{array}{r} 100 \\ - 83 \\ \hline \end{array} \quad \begin{array}{r} 100 \\ - 50 \\ \hline \end{array} \quad \begin{array}{r} 100 \\ - 69 \\ \hline \end{array}$$

$$\begin{array}{r} 100 \\ - 14 \\ \hline \end{array} \quad \begin{array}{r} 100 \\ - 60 \\ \hline \end{array} \quad \begin{array}{r} 100 \\ - 72 \\ \hline \end{array} \quad \begin{array}{r} 100 \\ - 58 \\ \hline \end{array} \quad \begin{array}{r} 100 \\ - 20 \\ \hline \end{array}$$

②

$$\begin{array}{r} 85 \\ - 64 \\ \hline \end{array} \quad \begin{array}{r} 36 \\ - 18 \\ \hline \end{array} \quad \begin{array}{r} 67 \\ - 29 \\ \hline \end{array} \quad \begin{array}{r} 93 \\ - 75 \\ \hline \end{array} \quad \begin{array}{r} 45 \\ - 28 \\ \hline \end{array}$$

まとめ

つぎのことがよくできるよ
うになりましたか。

(1)

$$\begin{array}{r} 7 \\ 83 \\ - 47 \\ \hline 36 \end{array} \quad \begin{array}{r} 54 \\ - 28 \\ \hline \end{array} \quad \begin{array}{r} 75 \\ - 39 \\ \hline \end{array}$$

のように
くりさがる
ひきざん。

(2)

$$\begin{array}{r} 100 \\ - 70 \\ \hline 30 \end{array} \quad \begin{array}{r} 100 \\ - 40 \\ \hline \end{array} \quad \begin{array}{r} 9 \\ 100 \\ - 53 \\ \hline 47 \end{array} \quad \begin{array}{r} 100 \\ - 45 \\ \hline \end{array}$$

のような百のくらいからくり
さがるひきざん。

おけいこ

(1) まさおさんは

100まい買った

はがきのうち16

まいいただいてねんがじょうを
だしました。おとうさんは68まい
おだしになりました。


あとなんまいあまったでしょう。

(2) つぎのひきざんをして、こ
たえをよせざんでたしかめなさい。

$$\begin{array}{r} 94 \\ - 5 \\ \hline \end{array} \quad \begin{array}{r} 82 \\ - 8 \\ \hline \end{array} \quad \begin{array}{r} 66 \\ - 9 \\ \hline \end{array} \quad \begin{array}{r} 71 \\ - 4 \\ \hline \end{array} \quad \begin{array}{r} 83 \\ - 6 \\ \hline \end{array} \quad \begin{array}{r} 34 \\ - 7 \\ \hline \end{array}$$

$$\begin{array}{r} 84 \\ - 29 \\ \hline \end{array} \quad \begin{array}{r} 94 \\ - 27 \\ \hline \end{array} \quad \begin{array}{r} 74 \\ - 46 \\ \hline \end{array} \quad \begin{array}{r} 65 \\ - 28 \\ \hline \end{array} \quad \begin{array}{r} 92 \\ - 65 \\ \hline \end{array} \quad \begin{array}{r} 83 \\ - 64 \\ \hline \end{array}$$

$$\begin{array}{r} 43 \\ - 14 \\ \hline \end{array} \quad \begin{array}{r} 63 \\ - 25 \\ \hline \end{array} \quad \begin{array}{r} 67 \\ - 38 \\ \hline \end{array} \quad \begin{array}{r} 52 \\ - 36 \\ \hline \end{array} \quad \begin{array}{r} 91 \\ - 47 \\ \hline \end{array} \quad \begin{array}{r} 77 \\ - 29 \\ \hline \end{array}$$



(3) 百円の
 さつを 十円の
 さつに かえる
 と なんまいに なりますか。



(4) かず子さんは
 百円の さつを もっ
 ていき、ねぎ 26円と しょうゆ 38
 円を かって きました。のこりの
 おかねは いくらだったでしょう。

(5) こたえは たしかめなさい。

$$\begin{array}{r} 100 \\ - 5 \\ \hline \end{array} \quad \begin{array}{r} 100 \\ - 7 \\ \hline \end{array} \quad \begin{array}{r} 100 \\ - 40 \\ \hline \end{array} \quad \begin{array}{r} 100 \\ - 56 \\ \hline \end{array} \quad \begin{array}{r} 100 \\ - 41 \\ \hline \end{array}$$

$$\begin{array}{r} 100 \\ - 79 \\ \hline \end{array} \quad \begin{array}{r} 100 \\ - 83 \\ \hline \end{array} \quad \begin{array}{r} 100 \\ - 24 \\ \hline \end{array} \quad \begin{array}{r} 100 \\ - 38 \\ \hline \end{array} \quad \begin{array}{r} 100 \\ - 30 \\ \hline \end{array}$$

テスト (14)

(1) ひろしさんの
 うちでは まめまき
 の あと めいめい
 としの かずほど
 まめを つかんで みました。①72
 のおじいさんは 59しか つかみませ
 ませんでした。いくつ たりないでしょう。
 ②おとうさんは 56つかんだので ハ
 つ おおいのたそうです。おとうさん
 は いくつなのですか。



(2) つぎの ひきざんを なさい。

$$\begin{array}{r} 55 \\ - 36 \\ \hline \end{array} \quad \begin{array}{r} 74 \\ - 67 \\ \hline \end{array} \quad \begin{array}{r} 80 \\ - 34 \\ \hline \end{array} \quad \begin{array}{r} 53 \\ - 38 \\ \hline \end{array} \quad \begin{array}{r} 82 \\ - 65 \\ \hline \end{array}$$

$$\begin{array}{r} 46 \quad 92 \quad 73 \quad 96 \quad 83 \\ -19 \quad -37 \quad -26 \quad -48 \quad -55 \\ \hline \end{array}$$

(3) ひろしさんたちは45人で手



つなぎおにをし
ています。2人ず
つのおにが18
くみできました。

まだつかまらないのはなん人ですか。

(4) つぎのひきざんをなさい。

$$\textcircled{1} \begin{array}{r} 70 \quad 100 \quad 90 \quad 100 \quad 100 \\ -35 \quad -20 \quad -45 \quad -29 \quad -37 \\ \hline \end{array}$$

$$\begin{array}{r} 100 \quad 100 \quad 80 \quad 100 \quad 90 \\ -48 \quad -56 \quad -23 \quad -74 \quad -28 \\ \hline \end{array}$$

$$\textcircled{2} \begin{array}{r} 89 \quad 47 \quad 61 \quad 72 \quad 42 \\ -23 \quad -29 \quad -46 \quad -43 \quad -18 \\ \hline \end{array}$$

$$\begin{array}{r} 43 \quad 92 \quad 75 \quad 65 \quad 74 \\ -14 \quad -67 \quad -38 \quad -59 \quad -36 \\ \hline \end{array}$$

これまでのおけいこ



(1) まおさんは
おとうさんととこ
やにいきました。
おとうさんは45円、
まおさんは20円
です。100円さつで
はらいました。

おつりはいくら
きましたか。

(2) つぎのよせざんをなさい。

$$\textcircled{1} \begin{array}{r} 53 \quad 34 \quad 71 \quad 38 \quad 35 \quad 73 \\ +7 \quad +3 \quad +5 \quad +20 \quad +40 \quad +20 \\ \hline \end{array}$$

$$\begin{array}{r} 53 \quad 34 \quad 35 \quad 89 \quad 66 \quad 78 \\ +25 \quad +64 \quad +6 \quad +8 \quad +9 \quad +7 \\ \hline \end{array}$$

$$\textcircled{2} \begin{array}{r} 43 \quad 68 \quad 24 \quad 53 \quad 27 \quad 49 \\ +57 \quad +24 \quad +66 \quad +38 \quad 38 \quad 28 \\ \hline +15 \quad +16 \\ \hline \end{array}$$

$$\begin{array}{r} 45 \quad 16 \quad 65 \quad 47 \\ +29 \quad +77 \quad +35 \quad +39 \\ \hline \end{array}$$

(3) かず子さんは 64 ページの ざ
 っしを きのうまでに 29 ページよみ、
 きょう 18 ページ よみました。あと
 なんページ のこりましたか。

(4) つぎの ひきざんを なさい。

① $\begin{array}{r} 11 \\ -4 \\ \hline \end{array}$ $\begin{array}{r} 13 \\ -9 \\ \hline \end{array}$ $\begin{array}{r} 14 \\ -6 \\ \hline \end{array}$ $\begin{array}{r} 59 \\ -29 \\ \hline \end{array}$ $\begin{array}{r} 95 \\ -32 \\ \hline \end{array}$ $\begin{array}{r} 91 \\ -30 \\ \hline \end{array}$

$\begin{array}{r} 100 \\ -70 \\ \hline \end{array}$ $\begin{array}{r} 73 \\ -60 \\ \hline \end{array}$ $\begin{array}{r} 58 \\ -30 \\ \hline \end{array}$ $\begin{array}{r} 18 \\ -9 \\ \hline \end{array}$ $\begin{array}{r} 15 \\ -7 \\ \hline \end{array}$ $\begin{array}{r} 17 \\ -8 \\ \hline \end{array}$

② $\begin{array}{r} 37 \\ -9 \\ \hline \end{array}$ $\begin{array}{r} 45 \\ -8 \\ \hline \end{array}$ $\begin{array}{r} 52 \\ -7 \\ \hline \end{array}$ $\begin{array}{r} 74 \\ -36 \\ \hline \end{array}$ $\begin{array}{r} 64 \\ -25 \\ \hline \end{array}$ $\begin{array}{r} 66 \\ -47 \\ \hline \end{array}$

$\begin{array}{r} 100 \\ -77 \\ \hline \end{array}$ $\begin{array}{r} 81 \\ -22 \\ \hline \end{array}$ $\begin{array}{r} 93 \\ -65 \\ \hline \end{array}$ $\begin{array}{r} 100 \\ -42 \\ \hline \end{array}$ $\begin{array}{r} 70 \\ -62 \\ \hline \end{array}$ $\begin{array}{r} 72 \\ -48 \\ \hline \end{array}$

(5) ひだりの 四かくの 中の か

7	8	3	ずを たてよこななめ	13	8	9
2	6	10	によせない。みぎの ま	6		14
9	4	5	ん中は いくつでしょう。	11	12	7

しあげテスト (7)

(1) あけみさんは 1 m のひもを
 47 cm いもうとに わけて あげま
 した。のこりは なんセンチですか。

(2) つぎの けいさんを なさい。

① $\begin{array}{r} 48 \\ +9 \\ \hline \end{array}$ $\begin{array}{r} 27 \\ +8 \\ \hline \end{array}$ $\begin{array}{r} 7 \\ +14 \\ \hline \end{array}$ $\begin{array}{r} 6 \\ +59 \\ \hline \end{array}$ $\begin{array}{r} 86 \\ +7 \\ \hline \end{array}$

$\begin{array}{r} 35 \\ -6 \\ \hline \end{array}$ $\begin{array}{r} 54 \\ -9 \\ \hline \end{array}$ $\begin{array}{r} 72 \\ -7 \\ \hline \end{array}$ $\begin{array}{r} 63 \\ -8 \\ \hline \end{array}$ $\begin{array}{r} 74 \\ -6 \\ \hline \end{array}$

② $\begin{array}{r} 44 \\ +38 \\ \hline \end{array}$ $\begin{array}{r} 67 \\ +16 \\ \hline \end{array}$ $\begin{array}{r} 28 \\ +55 \\ \hline \end{array}$ $\begin{array}{r} 35 \\ +37 \\ \hline \end{array}$ $\begin{array}{r} 66 \\ +26 \\ \hline \end{array}$


$\begin{array}{r} 23 \\ -18 \\ \hline \end{array}$ $\begin{array}{r} 46 \\ -39 \\ \hline \end{array}$ $\begin{array}{r} 75 \\ -57 \\ \hline \end{array}$ $\begin{array}{r} 95 \\ -38 \\ \hline \end{array}$ $\begin{array}{r} 83 \\ -37 \\ \hline \end{array}$


③ $\begin{array}{r} 44 \\ +56 \\ \hline \end{array}$ $\begin{array}{r} 73 \\ +17 \\ \hline \end{array}$ $\begin{array}{r} 22 \\ +78 \\ \hline \end{array}$ $\begin{array}{r} 65 \\ +35 \\ \hline \end{array}$ $\begin{array}{r} 21 \\ +79 \\ \hline \end{array}$


$\begin{array}{r} 100 \\ +48 \\ \hline \end{array}$ $\begin{array}{r} 70 \\ -62 \\ \hline \end{array}$ $\begin{array}{r} 100 \\ -95 \\ \hline \end{array}$ $\begin{array}{r} 80 \\ -54 \\ \hline \end{array}$ $\begin{array}{r} 100 \\ -37 \\ \hline \end{array}$



おじさんは、かず子さんや まさおさんたちに ガリバーのはなしをしながら つぎのよう な もんだいをだして くださいました。わたくしたちも かんがえてみましょう。

(1) ガリバーが 小人のくにへながれついたのは よるの  でした。つかれて いたので くっすりね



むり、目がさめたときには、よが
あけていました。およそ  だっ
たでしょう。

(2) くくりつけられた ガリバーの
かおまで のぼって きた 小人を み
ると、女の たかさは、15センチぐら
いだったそうです。15センチの 小人
の えを かいて みましょう。


(3) はじめ ガリバーの かおまで
のぼって きて ながめた 小人は
40人ぐらいでした。あとで たべもの
をはこんで くれたのは 100人ぐら
いでした。どちらが なん人ぐらい
おおいでしょう。

(4) ガリバーの いれられたおてら
の たかさは 120cmでした。これは
なんメートルなんセンチですか。
これは わたくしたちの つくえより
たかいですか、ひくいですか。

おてらの むかいには 150cmのた
かい とうが たって いました。そ
れは なんメートルなんセンチ でき
か。おてらと どうとは、どちらが

なんセンチ たかいでしょう。

(5) 中のかずに まわりのかずに
よせなさい。



(6) つぎの けいさんを なさい。

$$\textcircled{1} \begin{array}{r} 14 \\ + 6 \\ \hline \end{array} \quad \begin{array}{r} 17 \\ + 9 \\ \hline \end{array} \quad \begin{array}{r} 15 \\ + 8 \\ \hline \end{array} \quad \begin{array}{r} 12 \\ + 5 \\ \hline \end{array} \quad \begin{array}{r} 16 \\ + 7 \\ \hline \end{array} \quad \begin{array}{r} 13 \\ + 6 \\ \hline \end{array}$$

$$\begin{array}{r} 20 \\ - 3 \\ \hline \end{array} \quad \begin{array}{r} 18 \\ - 9 \\ \hline \end{array} \quad \begin{array}{r} 20 \\ - 4 \\ \hline \end{array} \quad \begin{array}{r} 14 \\ - 7 \\ \hline \end{array} \quad \begin{array}{r} 16 \\ - 8 \\ \hline \end{array} \quad \begin{array}{r} 13 \\ - 8 \\ \hline \end{array}$$

$$\textcircled{2} \begin{array}{r} 27 \\ + 8 \\ \hline \end{array} \quad \begin{array}{r} 46 \\ + 7 \\ \hline \end{array} \quad \begin{array}{r} 43 \\ + 9 \\ \hline \end{array} \quad \begin{array}{r} 59 \\ + 4 \\ \hline \end{array} \quad \begin{array}{r} 68 \\ + 8 \\ \hline \end{array} \quad \begin{array}{r} 79 \\ + 9 \\ \hline \end{array}$$

$$\begin{array}{r} 32 \\ - 6 \\ \hline \end{array} \quad \begin{array}{r} 67 \\ - 8 \\ \hline \end{array} \quad \begin{array}{r} 32 \\ - 4 \\ \hline \end{array} \quad \begin{array}{r} 67 \\ - 9 \\ \hline \end{array} \quad \begin{array}{r} 95 \\ - 7 \\ \hline \end{array} \quad \begin{array}{r} 56 \\ - 8 \\ \hline \end{array}$$



おてらに . . . いったから

(1) おてらに いれられて はじめ
の 2しゅうかんは じめんに ねか
されました。2しゅうかんは なん日
ですか。

(2) おうきまは 小人の しんだい
を150あつめて ガリバーの しん
だいに しました。10を いくつ あ


つめると 150に なりますか。

(3) ある日 おうさまは 小人たち
を あつめて、ガリバーの またの
下を こうしん させました。

あるく 小人たちは ひとくみ 34
人で、うまに のった 小人たちは
ひとくみ 16人でした。

どちらの くみが なん人 おおい
でしょう。

(4) 小人の
くにの うま
や ひつじの
たかさは み
ぎの ずの
ようです。



なんセンチメートル ずつですか。

(5) ガリバーの シャツを くつる
ために、小人が 200人 かかりまし
た。うわぎをつくるのには 300人
かかりましたか。

どちらが なん人 おおく かかり
ましたか。

(6) つぎの の中は いくつか。

398 → → 400 → → 402

307 → → 309 → → 311

(7) つぎの けいさんを なさい。

$$\begin{array}{r} 39 \\ + 42 \\ \hline \end{array} \quad \begin{array}{r} 17 \\ + 58 \\ \hline \end{array} \quad \begin{array}{r} 26 \\ + 39 \\ \hline \end{array} \quad \begin{array}{r} 28 \\ + 58 \\ \hline \end{array} \quad \begin{array}{r} 34 \\ + 49 \\ \hline \end{array} \quad \begin{array}{r} 27 \\ + 46 \\ \hline \end{array}$$

$$\begin{array}{r} 84 \\ - 46 \\ \hline \end{array} \quad \begin{array}{r} 87 \\ - 18 \\ \hline \end{array} \quad \begin{array}{r} 96 \\ - 39 \\ \hline \end{array} \quad \begin{array}{r} 53 \\ - 28 \\ \hline \end{array} \quad \begin{array}{r} 73 \\ - 47 \\ \hline \end{array} \quad \begin{array}{r} 94 \\ - 29 \\ \hline \end{array}$$

ま と め

つぎの ことが よく できますか。

- (1) とけいの みかた
- (2) 1 m は 100 cm であること。
- (3) m や cm で ながさを はかる こと。
- (4) 450 までの かぞえかた。

(5)
$$\begin{array}{r} 56 \quad 74 \quad 60 \\ + 8 \quad + 18 \quad + 40 \\ \hline \end{array}$$
 のような よせざん。


(6)
$$\begin{array}{r} 72 \quad 64 \quad 100 \\ - 18 \quad - 29 \quad - 20 \\ \hline \end{array}$$
 のような ひきざん。



おけいこ

- (1) おはじきを しました。かず子 さんは 19、ふみ

子さんは 25、あけみさんは 32 と りました。あけみさんは かず子さん より いくつ ちましたか。おはじ きは みんなで いくつ あったので しょう。



(2) かず子さんが とけいやのみせを みますと たくさん のとけいが いろい

ろな じこくを さして いました。

それぞれ なんじ



でしょう。

- (3) つぎの けいさんを なさい。

$\begin{array}{r} 29 \\ + 26 \\ \hline \end{array}$	$\begin{array}{r} 16 \\ + 27 \\ \hline \end{array}$	$\begin{array}{r} 67 \\ + 33 \\ \hline \end{array}$	$\begin{array}{r} 39 \\ + 19 \\ \hline \end{array}$	$\begin{array}{r} 23 \\ + 37 \\ \hline \end{array}$	$\begin{array}{r} 34 \\ + 16 \\ + 29 \\ \hline \end{array}$
$\begin{array}{r} 100 \\ - 38 \\ \hline \end{array}$	$\begin{array}{r} 83 \\ - 46 \\ \hline \end{array}$	$\begin{array}{r} 91 \\ - 34 \\ \hline \end{array}$	$\begin{array}{r} 85 \\ - 77 \\ \hline \end{array}$		

テスト (15)

(1) たかしさんの くみは 43人で、
そのうち おんなが 18人です。おど
こは なん人でしょう。きょうの け
っせきは おんな 2人 おどこ 4
人です。しゅっせきは なん人ですか。

(2) 3じはんの とき 二つのはり
は それぞれ どこを さしますか。

(3) つぎの けいさんを なさい。

$$\textcircled{1} \begin{array}{r} 24 \\ +37 \\ \hline \end{array} \quad \begin{array}{r} 37 \\ +29 \\ \hline \end{array} \quad \begin{array}{r} 24 \\ +76 \\ \hline \end{array} \quad \begin{array}{r} 26 \\ +17 \\ \hline \end{array} \quad \begin{array}{r} 28 \\ +46 \\ \hline \end{array}$$

$$\begin{array}{r} 38 \\ +58 \\ \hline \end{array} \quad \begin{array}{r} 69 \\ +13 \\ \hline \end{array} \quad \begin{array}{r} 37 \\ +27 \\ \hline \end{array} \quad \begin{array}{r} 56 \\ +38 \\ \hline \end{array} \quad \begin{array}{r} 69 \\ +25 \\ \hline \end{array}$$

$$\textcircled{2} \begin{array}{r} 100 \\ -41 \\ \hline \end{array} \quad \begin{array}{r} 95 \\ -69 \\ \hline \end{array} \quad \begin{array}{r} 72 \\ -64 \\ \hline \end{array} \quad \begin{array}{r} 93 \\ -85 \\ \hline \end{array} \quad \begin{array}{r} 66 \\ -38 \\ \hline \end{array}$$

$$\begin{array}{r} 94 \\ -47 \\ \hline \end{array} \quad \begin{array}{r} 74 \\ -55 \\ \hline \end{array} \quad \begin{array}{r} 92 \\ -13 \\ \hline \end{array} \quad \begin{array}{r} 70 \\ -59 \\ \hline \end{array} \quad \begin{array}{r} 90 \\ -38 \\ \hline \end{array}$$

16 おみせやごっこ



やおやさん



まさおさんは しんぶんしを しんにして はりこの りんごや だいこんをつくり、クレオンでいろをつけて、やおやさんを ひらきました。

かいての ひとたち は、がょうしで みぎのような おさつをつくりました。

	たて	よこ
一円さつ	3 cm	5 cm
五円さつ	4 cm	6 cm
十円さつ	5 cm	7 cm
百円さつ	6 cm	8 cm

(1) ふみ子さんは、りんご 二つと

ねぎ 一たばを かいました。どんなおさつで はらったでしょう。

(2) あけみさんは、だいこん・にんじん・ごぼうを、1ぽんずつ かって 百円のおさつで はらいました。

かいはものは みんなで いくらですか。

おつりは いくら きたでしょう。

(3) わたくしたちも ふみ子さんたちのような おさつをついて、おみせやごっこを してみましよう。

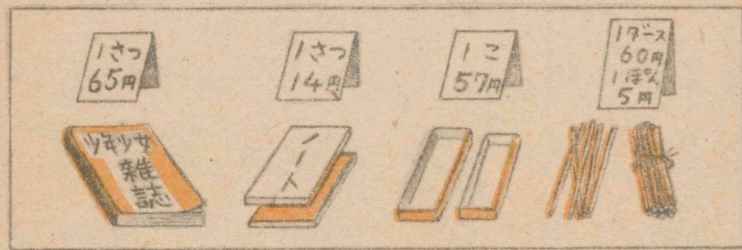
(4) つぎの けいさんを なさい。

$$\begin{array}{r} 47 \\ +53 \\ \hline \end{array} \quad \begin{array}{r} 25 \\ +65 \\ \hline \end{array} \quad \begin{array}{r} 83 \\ +17 \\ \hline \end{array} \quad \begin{array}{r} 69 \\ +31 \\ \hline \end{array} \quad \begin{array}{r} 14 \\ +86 \\ \hline \end{array} \quad \begin{array}{r} 72 \\ +28 \\ \hline \end{array}$$

$$\begin{array}{r} 100 \\ -58 \\ \hline \end{array} \quad \begin{array}{r} 90 \\ -36 \\ \hline \end{array} \quad \begin{array}{r} 100 \\ -91 \\ \hline \end{array} \quad \begin{array}{r} 80 \\ -13 \\ \hline \end{array} \quad \begin{array}{r} 100 \\ -57 \\ \hline \end{array} \quad \begin{array}{r} 100 \\ -79 \\ \hline \end{array}$$

$$\begin{array}{r} 70 \\ -24 \\ \hline \end{array} \quad \begin{array}{r} 100 \\ -46 \\ \hline \end{array} \quad \begin{array}{r} 80 \\ -68 \\ \hline \end{array} \quad \begin{array}{r} 100 \\ -15 \\ \hline \end{array} \quad \begin{array}{r} 90 \\ -59 \\ \hline \end{array} \quad \begin{array}{r} 100 \\ -26 \\ \hline \end{array}$$

がくようひんやさん



かず子さんは がくようひんやさん
になりました。えんぴつは ほそい
たけで つくりました。ざっしや ノ
ートは ふるいのです。ふてばこは
おともだちのを あつめました。

(1) ひろし「1ダースは なんぼん
ですか。」

かず子「1ダースは 12ほんです。」

ひろしさんは、えんぴつ1ダースと
ノート1さつを、かって 百円のお

きつで はらいました。ひろしさんの
かいものは みんなで、いくらですか。

おつりは、いくらでしょう。

(2) ざっしと ふてばこは、どち
らが なん円 たかいでしょう。

(3) えんぴつ 1ダースと ノート
3さつとでは、どちらが、いくら
たかいでしょう。

ま と め

つぎの ことが よく できますか。

(1) 1ダースは 12で ある こと。

(2) $\begin{array}{r} 48 \\ +27 \\ \hline \end{array}$ $\begin{array}{r} 72 \\ +28 \\ \hline \end{array}$ のような よせざん。

(3) $\begin{array}{r} 100 \\ -63 \\ \hline \end{array}$ $\begin{array}{r} 75 \\ -29 \\ \hline \end{array}$ のような ひきざん。

(4) cmで ながさを はかる こと。



おけいこ

(1) かくれんぼで
まさおさんが おにて
す。100まで かぞえてからさがしま
す。いま 49まで かぞえました。あ
と いくつ かぞえるのでしょうか。

(2) もう 9人 みつけましたが
あと まだ 8人 かくれています。
みんなで なんん いるのですか。

(4) つぎの けいさんを なさい。

$$\begin{array}{r} 15 \quad 49 \quad 27 \quad 46 \quad 48 \quad 46 \\ +36 + 14 + 35 + 46 + 38 + 51 \\ \hline \end{array}$$

$$\begin{array}{r} 83 \quad 62 \quad 100 \quad 81 \quad 92 \quad 94 \\ -55 - 26 - 27 - 37 - 28 - 29 \\ \hline \end{array}$$

テスト (16)

(1) ふみ子さんは、お正月に いた
だいた 3ダースの えんぴつのうち、
じぶんで 9ほん つかい おともだ
ちに 8ほん わけて あげました。

なんぼん のこって いるでしょう。


(2) つぎの けいさんを なさい。

$$\textcircled{1} \begin{array}{r} 38 \quad 29 \quad 17 \quad 48 \quad 29 \\ +22 + 60 + 25 + 47 \quad 27 \\ \hline + 15 \end{array}$$

$$\begin{array}{r} 36 \quad 46 \quad 73 \quad 28 \quad 38 \\ +47 + 48 + 17 + 29 \quad 36 \\ \hline + 24 \end{array}$$

$$\textcircled{2} \begin{array}{r} 91 \quad 73 \quad 100 \quad 81 \quad 97 \\ -43 - 58 - 18 - 24 - 39 \end{array}$$

$$\begin{array}{r} 100 \quad 72 \quad 62 \quad 100 \quad 92 \\ -89 - 36 - 43 - 7 - 37 \end{array}$$



これまでの
おけいこ

(1) ふみ子さん
はま四かくな
いろがみを
ずのよ
うに おって き

りました。そして いろいろな かた
ちに ならべて みました。
私たちも して みましょう。



(2) みぎ下の ひょうは
ひろしさんの うちの 人
のとしてです。ひろしさんは
おじいさんより いくつす
くないですか。

ひろし	7
おとうさん	48
おかあさん	41
おじいさん	72

しあげテスト (8)

(1) かず子さんの うち
のおにわに きいろの す
いせんが 8、しろの す
いせんが 25 さきました。
おとなりへ きいろを 3と しろを
10 あげました。



あと いくつ のこって いますか。

(2) つぎの けいさんを なさい

$$\begin{array}{r} \textcircled{1} \quad 42 \\ + 29 \\ \hline 26 \end{array} \quad \begin{array}{r} 28 \\ + 23 \\ \hline 51 \end{array} \quad \begin{array}{r} 17 \\ + 46 \\ \hline 63 \end{array} \quad \begin{array}{r} 66 \\ + 34 \\ \hline 100 \end{array} \quad \begin{array}{r} 58 \\ 27 \\ + 15 \\ \hline 100 \end{array}$$

$$\begin{array}{r} 26 \\ + 47 \\ \hline 73 \end{array} \quad \begin{array}{r} 25 \\ + 36 \\ \hline 61 \end{array} \quad \begin{array}{r} 38 \\ + 47 \\ \hline 85 \end{array} \quad \begin{array}{r} 24 \\ + 39 \\ \hline 63 \end{array} \quad \begin{array}{r} 42 \\ 29 \\ + 27 \\ \hline 98 \end{array}$$

$$\textcircled{2} \quad \begin{array}{r} 60 \\ - 43 \\ \hline 17 \end{array} \quad \begin{array}{r} 84 \\ - 57 \\ \hline 27 \end{array} \quad \begin{array}{r} 100 \\ - 89 \\ \hline 11 \end{array} \quad \begin{array}{r} 82 \\ - 18 \\ \hline 64 \end{array} \quad \begin{array}{r} 94 \\ - 29 \\ \hline 65 \end{array}$$

$$\begin{array}{r} 75 \\ - 46 \\ \hline 29 \end{array} \quad \begin{array}{r} 83 \\ - 28 \\ \hline 55 \end{array} \quad \begin{array}{r} 93 \\ - 46 \\ \hline 47 \end{array} \quad \begin{array}{r} 71 \\ - 12 \\ \hline 59 \end{array} \quad \begin{array}{r} 97 \\ - 39 \\ \hline 58 \end{array}$$

テストのこたえ

ページ テスト	こたえ	ページ テスト	こたえ
12 (9)	(1) せんせいにみていた だきましよう。 (2) 100, 200, 160, 119, 108 (3) 百七 百三十 百五十六 百一 百十 (4) $\boxed{98}$ -99- $\boxed{100}$ -101 - $\boxed{102}$ -103 200- $\boxed{199}$ -198 $\boxed{197}$ -196-195 (5) 9, 30, 15, 63, 8	35 (11)	(3) 415, 414, 413, 412, 411 410, 409, 408, 407, 406 405, 404, 403, 402, 401 400, 399, 398, 397, 396, 395, (4) 13, 99, 9, 44, 44 (1) 9, 7, 15, 13, 16, 3, 7, 5, 9, 9, (2) 32, 41, 51, 62, 76, 82, 94, 25, 82, 42, (3) 67, 98, 97, 79, 100, 20, 27, 50, 46, 54, (4) 47, 63, 55, 74, 43 (5) 56
21 (10)	(1) かず子さんの ほうが おおかった。 (2) 188, 189, 190, 191, 192, 193, 194, 195, 196, 197, 198, 199, 200, 201, 202 203, 204, 205, 206, 207 208, 209, 210, 211, 212, (3) 百六十, 二百三, 三百八 十, 四百四十九, 四百八 十 (4) 400, 105, 310, 417	48 (12)	(1) 66 (2) 33, 40, 55, 61, 71, 83, 93, 62, 42, 90 (3) 71, 82, 83, 94, 92 (4) 98 (5) 100, 90, 90, 90, 100
24 しあげ	(1) せんせいにみていた だきましよう。 (5) (2) ちがいは7つぷ, あわせて 57 つぷ	52 しあげ (6)	(1) 2 m 50 cm (2) 9, 15, 26, 33, 80 67, 90, 83, 100, 93 (3) 20日 (4) 7, 15, 6, 7, 66, 90, 50, 34, 40, 63

ページ テスト	こたえ	ページ テスト	こたえ
64 (13)	(1) 78円 (2) 68 (3) 4, 8, 17, 9, 8, 36, 7, 53, 9, 62 (4) 27わ (5) ① 20, 5, 60, 22, 50, 13, 9, 62, 40, 28, 6, 90, ② 20, 58, 85, 46, 52, 78, 46, 78, 39, 57, 66, 67	92 (15)	(1) おとこ25人, しゅっせき 37人 (2) みじかいはりは3じの ところ, ながいはりは6じの ところ, (3) ① 61, 66, 100, 43, 74, 96, 82, 54, 94, 94 ② 59, 26, 8, 8, 28, 47, 19, 79, 11, 52
77 (14)	(1) ① 13, ② 48 (2) 19, 7, 46, 15, 17, 27, 55, 47, 46, 28 (3) 9人 (4) ① 35, 80, 45, 71, 63, 52, 44, 57, 26, 62 ② 66, 18, 15, 29, 24, 39, 25, 37, 6, 38	99 (16)	(1) 19ほん (2) ① 60, 89, 42, 95, 71, 83, 94, 90, 57, 98 ② 48, 15, 82, 57, 58, 11, 36, 19, 93, 55
81 しあげ	(1) 53 cm (2) ① 57, 35, 21, 65, 93, 29, 45, 65, 55, 68 ② 82, 83, 83, 72, 92 5, 7, 18, 57, 46 ③ 100, 90, 100, 100, 100, 52, 8, 5, 46, 63	101 しあげ (8)	(1) 20 (2) ① 71, 51, 63, 100, 100, 73, 61, 85, 63, 98 ② 17, 27, 11, 64, 65, 29, 55, 47, 59, 58

さくいん

数	200まで数えたり書いたりすること.....	4 ~ 12	
	450まで数えたり書いたりすること.....	13 ~ 21, 24, 87 ~ 88	
	10ずつ数えること.....	22, 87	
加法	(何十)+(何十)=百(くり上りのある) ---	27 ~ 36, 46, 49	
	二位数+基数=(何十) (") ---	29 ~ 36, 86	
	二位数+基数=二位数 (") ---	31 ~ 36, 48, 79,	
	二位数+二位数=(何十)或いは百(") ---	39 ~ 51, 95, 101	
	二位数+二位数=二位数 (") ---	37 ~ 52, 79, 89,	
		91, 92, 98, 99, 101	
	減法	二位数-基数=基数(くり下がりのある) ---	12, 23 ~ 24, 35,
			46, 51, 80, 86
		(何十)-基数=二位数 (") ---	56 ~ 65
		二位数-基数=二位数 (") ---	59 ~ 65, 86
		二位数-二位数=二位数(基数) (") ---	68 ~ 81, 88 ~ 92,
			98, 99, 101
		百-二位数或いは基数=二位数 (") ---	72 ~ 81, 95, 101
		減法九九.....	63
		量	m, cm.....
1 m = 100 cm.....			6, 10, 52, 85
時刻.....	26, 83, 84, 92		
1週間=7日.....	54, 87, 91		
1ダース=12.....	96, 97, 99		
形	上, 下, 左, 右, たて, よこ ---	8, 14, 30, 38, 57, 59, 62, 68	
		72, 80, 94	
	線, ま四角, なが四角, 三角, まる.....	20, 57, 100	
其の他	七曜表.....	54, 55	
	数表.....	45, 50, 63, 72, 94, 100	
	グラフ.....	71, 88	

小算 207

もとのかず

	10	11	12	13	14	15	16	17	18	19
ひ く か ず	1	9	10	11	12	13	14	15	16	17
	2	8	9	10	11	12	13	14	15	16
	3	7	8	9	10	11	12	13	14	15
	4	6	7	8	9	10	11	12	13	14
	5	5	6	7	8	9	10	11	12	13
	6	4	5	6	7	8	9	10	11	12
	7	3	4	5	6	7	8	9	10	11
	8	2	3	4	5	6	7	8	9	10
	9	1	2	3	4	5	6	7	8	9

二年生のさんすう 下 Approved by Ministry of Education (Date 1950)

編者	東京都大田区雪ヶ谷町 清明学園初等学校内	財団法人 日本新教育研究会
		理事長 濱野重郎
		編集長 照井猪一郎
担当執筆者	成城学園教諭 堀川 掬 成城学園教諭 徳永 吉晴 慶應義塾教諭 林 佐一	成城学園教諭 原川 武雄 学習院教諭 安田 良一
表紙とさしえ	大槻 定雄	木俣 武
昭和 25 年	月 日 印刷	¥
昭和 25 年	月 日 発行	
著者	東京都大田区雪ヶ谷町 清明学園初等学校内	財団法人 日本新教育研究会 会長 高橋誠一郎
発行者	東京都港区芝三田豊岡町8番地 学校図書株式会社	代表者 川口芳太郎
印刷者	東京都港区芝三田豊岡町8番地 図書印刷株式会社	代表者 川口芳太郎
発行所	東京都港区芝三田豊岡町8番地	学校図書株式会社

本書の指導書・ワークブック・印刷書並びにこれに類する一切のものの無断発行を禁ずる。

広島大学図書

0130449817



教
34
01